

# DRŽAVNO NATJECANJE IZ MATEMATIKE

1. razred – srednja škola – B varijanta

Trogir, 9. travnja 2015.

## Zadatak B-1.1.

Ako je  $xyz = abc$ , koliko je  $\frac{bx}{xy + ab + bx} + \frac{cy}{yz + bc + cy} + \frac{az}{zx + ca + az}$ ?

### Rješenje.

Prvi razlomak proširimo sa  $z$ , a drugi s  $a$ .

$$\begin{aligned} \frac{bx}{xy + ab + bx} \cdot \frac{z}{z} + \frac{cy}{yz + bc + cy} \cdot \frac{a}{a} + \frac{az}{zx + ca + az} &= \\ \frac{bxz}{xyz + abz + bxz} + \frac{cay}{ayz + abc + acy} + \frac{az}{zx + ca + az} &. \end{aligned}$$

Izraz  $xyz$  u nazivniku prvog razlomka zamijenimo s  $abc$ , a izraz  $abc$  u nazivniku drugog razlomka zamijenimo s  $xyz$ .

$$\begin{aligned} \frac{bxz}{abc + abz + bxz} + \frac{cay}{ayz + xyz + acy} + \frac{az}{zx + ca + az} &= \\ \frac{bxz}{b(ac + az + xz)} + \frac{acy}{y(az + xz + ac)} + \frac{az}{zx + ca + az} &= \frac{xz + ac + az}{ac + xz + az} = 1. \end{aligned}$$

## Zadatak B-1.2.

Prirodne brojeve redom ispisujemo tako da formiraju spiralu brojeva kao na slici:

21	22	23	24	25	26
					⋮
20	7	8	9	10	
	↑				
19	6	1	2	11	
	↑		↓		
18	5	4	3	12	
		←	←		
17	16	15	14	13	

Pozicija nekog broja određuje se u odnosu na broj 1. Primjerice, broj 24 nalazi se za 1 mjesto udesno i 2 mjesta prema gore. Odredite poziciju na kojoj se nalazi broj 2015 u odnosu na broj 1.

### Rješenje.

Uočimo da su brojevi na dijagonali desno prema gore kvadrati neparnih prirodnih brojeva  $1, 9, 25, 49, \dots$

21	22	23	24	25	26
					⋮
20	7 →	8 →	9 →	10	
	↑				
19	6	1 →	2	11	
	↑		↓		
18	5 ←	4 ←	3	12	
17	16	15	14	13	

Broj  $9 = (2 \cdot 1 + 1)^2$  i njegova je pozicija 1 udesno i 1 prema gore.

Broj  $25 = (2 \cdot 2 + 1)^2$  i njegova je pozicija 2 udesno i 2 prema gore.

Broj  $49 = (2 \cdot 3 + 1)^2$  i njegova je pozicija 3 udesno i 3 prema gore. . .

Kvadrat neparnog prirodnog broja koji je najbliži broju 2015 je  $45^2 = 2025$ .

Kako je  $45 = 2 \cdot 22 + 1$ , pozicija broja 2025 je 22 mjesta udesno i 22 mjesta prema gore.

Kako je  $2025 = 2015 + 10$ , to je pozicija broja 2015 u odnosu na broj 1

$22 - 10 = 12$  mjesta udesno i 22 mjesta prema gore.

### Zadatak B-1.3.

Svaki je član Maričine obitelji popio 4 decilitra mješavine kave i mlijeka. Količina kave i mlijeka je različita u svakoj šalici, ali nikad nije nula. Marica je popila jednu četvrtinu ukupne količine mlijeka i jednu šestinu ukupne količine kave. Koliko članova ima Maričina obitelj?

### Rješenje.

Neka je  $k$  količina kave, a  $m$  količina mlijeka koju je popila Marica (u dl). Obitelj neka ima  $n$  članova. Kako je svaki član obitelji popio 4 dl mješavine kave i mlijeka, ukupno se popilo  $4n$  mješavine, pa vrijede sljedeće jednakosti:

$$\begin{aligned}k + m &= 4 \\6k + 4m &= 4n, \\k > 0, m > 0, n &\in \mathbb{N}.\end{aligned}$$

Odredimo  $k$  i  $m$  u ovisnosti o  $n$ .

$$\begin{aligned}m &= 4 - k \\6k + 4(4 - k) &= 4n, \\k &= 2n - 8, \\m &= 12 - 2n.\end{aligned}$$

S obzirom da količina kave i mlijeka ne može biti 0, za brojeve  $k$  i  $m$  vrijedi:

$$2n - 8 > 0 \text{ i } 12 - 2n > 0.$$

Slijedi  $n > 4$  i  $n < 6$ , pa je  $n = 5$ .

Maričina obitelj ima 5 članova.

#### Zadatak B-1.4.

Skup točaka  $(x, y)$  u koordinatnoj ravnini za koje vrijedi

$$|x| \leq a, a \in \mathbb{Z}, a > 0, x + y \geq 0, |1 - y| \leq 2,$$

sadrži 2015 točaka s cjelobrojnim koordinatama. Odredite broj  $a$  i površinu danog skupa točaka.

#### Rješenje.

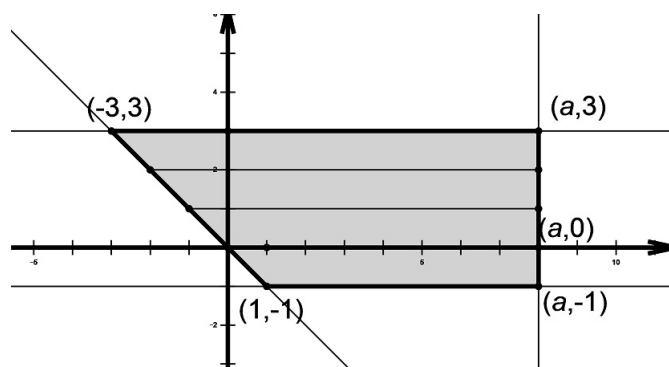
Iz  $|x| \leq a$  slijedi  $-a \leq x \leq a$ , a iz  $|1 - y| \leq 2$  slijedi da je

$$1 - y \leq 2 \text{ i } 1 - y \geq -2,$$

$$y \geq -1 \text{ i } y \leq 3.$$

Dobivamo skup točaka  $(x, y)$  koje se nalaze između pravaca  $y = -1, y = 3$ , između pravaca  $x = -a$  i  $x = a$ , te na kraju, zbog  $y \geq -x$ , iznad simetrale drugog i četvrtog kvadranta.

Broj  $a > 3$  jer bi u protivnom unutar danog skupa točaka bilo manje od 2015 (točnije  $\leq 25$ ) točaka s cjelobrojnim koordinatama.



Dobiveni je lik trapez  $ABCD$  kojemu su osnovice duljine  $a + 3$  i  $a - 1$ , a duljina visine  $v = 4$ . Prebrojimo točke po segmentima paralelnima s  $x$ -osi unutar dobivenog trapeza.

$$2015 = a + 4 + a + 3 + a + 2 + a + 1 + a$$

$$2015 = 5a + 10, \text{ a odavde je}$$

$$403 = a + 2,$$

$$a = 401.$$

Površina dobivenog trapeza je

$$P = \frac{(a - 1) + (a + 3)}{2} \cdot 4 = (400 + 404) \cdot 2 = 1608 \text{ kvadratnih jedinica.}$$

### Zadatak B-1.5.

Dokažite da je za svaki  $n \in \mathbb{N}$  točno jedan od brojeva  $A_n = 2^{2n+1} - 2^{n+1} + 1$  i  $B_n = 2^{2n+1} + 2^{n+1} + 1$  djeljiv s 5.

#### Prvo rješenje.

Svaki prirodni broj možemo zapisati u obliku  $n = 4k + l$  gdje je  $l \in \{0, 1, 2, 3\}$ ,  $k \in \mathbb{N}_0$ . Tada je:

$$A_n = 2^{2(4k+l)+1} - 2^{4k+l+1} + 1 = 2^{8k+2l+1} - 2^{4k+l+1} + 1$$

$$B_n = 2^{8k+2l+1} + 2^{4k+l+1} + 1.$$

U prvom slučaju neka je  $l = 0$ . Tada je

$$A_n = 2^{8k+1} - 2^{4k+1} + 1 = 2^{4k+1}(2^{4k} - 1) + 1$$

$$B_n = 2^{8k+1} + 2^{4k+1} + 1 = 2^{4k+1}(2^{4k} + 1) + 1.$$

Zadnja znamenka potencije broja 2 završava znamenkom 6, ako je eksponent oblika  $4k$ , znamenkom 2 ako je oblika  $4k + 1$ , znamenkom 4 ako je oblika  $4k + 2$  i znamenkom 8 ako je oblika  $4k + 3$ .

Zadnja znamenka broja  $A_n$  jednaka je zadnjoj znamenici broja  $2 \cdot (6 - 1) + 1 = 11$  što znači da broj  $A_n$  nije djeljiv s 5.

Zadnja znamenka broja  $B_n$  jednaka je zadnjoj znamenici broja  $2 \cdot (6 + 1) + 1 = 15$  što znači da je broj  $B_n$  djeljiv s 5.

Ako je  $l = 1$ :

$$A_n = 2^{8k+3} - 2^{4k+2} + 1 = 2^{4k+2}(2^{4k+1} - 1) + 1,$$

$$B_n = 2^{8k+3} + 2^{4k+2} + 1 = 2^{4k+2}(2^{4k+1} + 1) + 1.$$

Sličnim zaključivanjem kao u prethodnom slučaju dobivamo da je zadnja znamenka broja  $A_n$  jednaka zadnjoj znamenici broja  $4 \cdot (2 - 1) + 1 = 5$ , što znači da je broj  $A_n$  djeljiv s 5.

Zadnja znamenka broja  $B_n$  jednaka je zadnjoj znamenici broja  $4 \cdot (2 + 1) + 1 = 13$  što znači da broj  $B_n$  nije djeljiv s 5.

Ako je  $l = 2$ :

$$A_n = 2^{8k+5} - 2^{4k+3} + 1 = 2^{4k+3}(2^{4k+2} - 1) + 1,$$

$$B_n = 2^{8k+5} + 2^{4k+3} + 1 = 2^{4k+3}(2^{4k+2} + 1) + 1.$$

Zadnja znamenka broja  $A_n$  jednaka je zadnjoj znamenici broja  $8 \cdot (4 - 1) + 1 = 25$ , što znači da je broj  $A_n$  djeljiv s 5.

Zadnja znamenka broja  $B_n$  jednaka je zadnjoj znamenici broja  $8 \cdot (4 + 1) + 1 = 41$ , što znači da broj  $B_n$  nije djeljiv s 5.

Ako je  $l = 3$ :

$$A_n = 2^{8k+7} - 2^{4k+4} + 1 = 2^{4k+4}(2^{4k+3} - 1) + 1,$$

$$B_n = 2^{8k+7} + 2^{4k+4} + 1 = 2^{4k+4}(2^{4k+3} + 1) + 1.$$

Zadnja znamenka broja  $A_n$  jednaka je zadnjoj znamenici broja  $6 \cdot (8 - 1) + 1 = 43$  što znači da broj  $A_n$  nije djeljiv s 5.

Zadnja znamenka broja  $B_n$  jednaka je zadnjoj znamenici broja  $6 \cdot (8 + 1) + 1 = 55$  što znači da je broj  $B_n$  djeljiv s 5.

## Drugo rješenje.

Pomnožimo dane brojeve i primijetimo da se umnožak može napisati kao razlika kvadrata:

$$\begin{aligned} A_n B_n &= (2^{2n+1} + 1 - 2^{n+1})(2^{2n+1} + 1 + 2^{n+1}) = (2^{2n+1} + 1)^2 - 2^{2n+2} \\ &= 2^{4n+2} + 2^{2n+2} + 1 - 2^{2n+2} = 2^{4n+2} + 1 = 4 \cdot 2^{4n} + 1 \end{aligned}$$

Budući da je  $2^{4n} = 16^n$ , a 16 daje ostatak 1 pri dijeljenju s 5, i broj  $2^{4n}$  daje ostatak 1 pri dijeljenju s 5.

Stoga dobiveni produkt  $A_n B_n = 4 \cdot 2^{4n} + 1$  daje isti ostatak kao i  $4 \cdot 1 + 1 = 5$  pri dijeljenju s 5, odnosno  $A_n B_n$  je djeljivo s 5. Budući da je 5 prost broj, bar jedan od brojeva  $A_n$  i  $B_n$  je djeljiv s 5.

Preostaje provjeriti da ne mogu oba broja biti djeljiva s 5.

Kada bi 5 dijelio i  $A_n = 2^{2n+1} - 2^{n+1} + 1$  i  $B_n = 2^{2n+1} + 2^{n+1} + 1$ , dijelio bi i njihovu razliku  $B_n - A_n = 2 \cdot 2^{n+1} = 2^{n+2}$ , što je nemoguće jer je to potencija broja 2.

# DRŽAVNO NATJECANJE IZ MATEMATIKE

2. razred – srednja škola – B varijanta

Trogir, 9. travnja 2015.

## Zadatak B-2.1.

Odredite realni parametar  $k$  tako da sustav jednadžbi

$$\left[ \operatorname{Im} \left( z + \frac{1}{2}i \right) \right]^2 = |z + 2|^2 + \frac{5}{4} \quad \text{i} \quad \operatorname{Im}(z) - 2\operatorname{Re}(z) = k, z \in \mathbb{C}$$

ima samo jedno rješenje?

### Rješenje.

Neka je  $z = x + yi$ ;  $x, y \in \mathbb{R}$ .

Tada prva od danih jednadžbi prelazi u

$$\left[ \operatorname{Im} \left( x + yi + \frac{1}{2}i \right) \right]^2 = |x + yi + 2|^2 + \frac{5}{4},$$

odnosno

$$\left( y + \frac{1}{2} \right)^2 = (x + 2)^2 + y^2 + \frac{5}{4}.$$

Sređivanjem dobivamo skup točaka  $(x, y)$  koje leže na paraboli  $y = x^2 + 4x + 5$ .

Druga jednadžba  $\operatorname{Im}(x + yi) - 2\operatorname{Re}(x + yi) = k$  određuje skup točaka  $(x, y)$  koje leže na pravcu  $y = 2x + k$ .

Rješavanjem sustava jednadžbi dobivamo zajedničke točke parabole i pravca:

$$y = x^2 + 4x + 5$$

$$y = 2x + k$$

$$x^2 + 4x + 5 = 2x + k$$

$$x^2 + 2x + 5 - k = 0.$$

Dobivena kvadratna jednadžba će imati jedno realno rješenje ako joj je diskriminanta ( $D = b^2 - 4ac$ ) jednaka nuli, odnosno

$$4 - 4(5 - k) = 0 \Rightarrow k = 4.$$

## Zadatak B-2.2.

U pravokutnom trokutu kojemu je  $c$  duljina hipotenuze,  $a, b$  duljine kateta te  $\alpha, \beta$  njima redom nasuprotni kutovi, vrijedi nejednakost  $5c^4 \geq 6a^2c^2 + 8b^4$ . Odredite sve vrijednosti koje mogu poprimiti kutovi  $\alpha$  i  $\beta$  u tom trokutu.

### Rješenje.

Na nejednadžbu  $5c^4 \geq 6a^2c^2 + 8b^4$  primijenimo neki od oblika Pitagorinog poučka, primjerice  $b^2 = c^2 - a^2$ . Uvrštavanjem dobivamo

$$5c^4 \geq 6a^2c^2 + 8(c^2 - a^2)^2.$$

Sređivanjem dobivamo  $8a^4 - 10a^2c^2 + 3c^4 \leq 0$ .

Podijelimo dobivenu nejednadžbu s  $c^4$  i slijedi

$$8\left(\frac{a}{c}\right)^4 - 10\left(\frac{a}{c}\right)^2 + 3 \leq 0.$$

Kako je  $\sin \alpha = \frac{a}{c}$ , slijedi  $8\sin^4 \alpha - 10\sin^2 \alpha + 3 \leq 0$ .

Nakon uvođenja supstitucije  $t = \sin^2 \alpha$ , dobivamo nejednadžbu  $8t^2 - 10t + 3 \leq 0$ .

Rješenje te nejednadžbe je  $\frac{1}{2} \leq t \leq \frac{3}{4}$ . Tada je

$$\frac{1}{2} \leq \sin^2 \alpha \leq \frac{3}{4}.$$

Kako je  $\sin \alpha \in \langle 0, 1 \rangle$ , vrijedi  $\frac{\sqrt{2}}{2} \leq \sin \alpha \leq \frac{\sqrt{3}}{2}$ , odnosno  $\alpha \in [45^\circ, 60^\circ]$ .

Zbog  $\beta = 90^\circ - \alpha$  slijedi  $\beta \in [30^\circ, 45^\circ]$

### Zadatak B-2.3.

Riješite sustav jednažbi

$$\begin{aligned}x\sqrt{x} + y\sqrt{y} &= 126 \\x + y - 12(\sqrt{x} + \sqrt{y}) + 36 + 2\sqrt{xy} &= 0.\end{aligned}$$

### Rješenje.

Zapišimo dane jednažbe u pogodnijem obliku.

Zbog  $x\sqrt{x} + y\sqrt{y} = (\sqrt{x})^3 + (\sqrt{y})^3$  prva jednažba prelazi u

$$\begin{aligned}(\sqrt{x} + \sqrt{y}) \cdot (x - \sqrt{xy} + y) &= 126 \\(\sqrt{x} + \sqrt{y}) \cdot ((\sqrt{x} + \sqrt{y})^2 - 3\sqrt{xy}) &= 126. \quad (*)\end{aligned}$$

Druga jednažba prelazi u

$$\begin{aligned}x + y - 12(\sqrt{x} + \sqrt{y}) + 36 + 2\sqrt{xy} &= 0 \\(x + 2\sqrt{xy} + y) - 12(\sqrt{x} + \sqrt{y}) + 36 &= 0 \\(\sqrt{x} + \sqrt{y})^2 - 12(\sqrt{x} + \sqrt{y}) + 36 &= 0 \\(\sqrt{x} + \sqrt{y} - 6)^2 &= 0 \\ \Rightarrow \sqrt{x} + \sqrt{y} &= 6.\end{aligned}$$

Uvrštavanjem dobivene jednakosti u (\*) slijedi  $6 \cdot (36 - 3 \cdot \sqrt{xy}) = 126$ , odnosno  $\sqrt{xy} = 5$ .

Rješavamo sustav

$$\begin{aligned}\sqrt{x} + \sqrt{y} &= 6 \\ \sqrt{xy} &= 5.\end{aligned}$$

Uvođenjem zamjene  $\sqrt{x} = a$ ,  $\sqrt{y} = b$  dobivamo

$$a + b = 6$$

$$ab = 5$$

što daje  $a = 1$ ,  $b = 5$  ili  $a = 5$ ,  $b = 1$ , odnosno  $x = 1$ ,  $y = 25$  ili  $x = 25$ ,  $y = 1$ .

#### Zadatak B-2.4.

Pinokio ponedjeljkom i utorkom govori istinu, subotom uvijek laže, a ostale dane u tjednu ili govori istinu ili laže. Na pitanje "Koji ti je predmet u školi najdraži?" šest uzastopnih dana u tjednu davao je redom sljedeće odgovore: "Povijest", "Matematika", "Zemljopis", "Fizika", "Kemija", "Fizika". Koji predmet Pinokio najviše voli? Objasnite svoj odgovor.

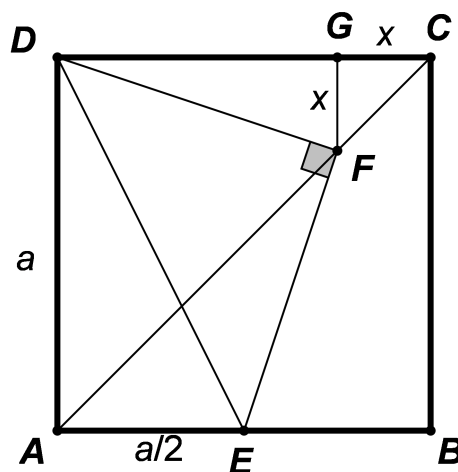
#### Rješenje.

Ako bi među onih šest uzastopnih dana tijekom kojih je Pinokio davao nama poznate odgovore bili i ponedjeljak i utorak, morali bismo imati dva uzastopna ista odgovora (budući da Pinokio i ponedjeljkom i utorkom govori istinu), što nemamo pa su jedine dvije mogućnosti koje preostaju da je niz pitanja počeo u utorak (a šesti odgovor dobili smo u nedjelju), kao i mogućnost da je niz pitanja počeo u srijedu (a šesti odgovor dobili smo u ponedjeljak). Ako je niz pitanja počeo u srijedu tada smo u subotu dobili odgovor "Fizika", kao i u ponedjeljak što je nemoguće budući da subotom Pinokio uvijek laže, a ponedjeljkom uvijek govori istinu. Dakle, ostaje jedino mogućnost da je niz pitanja počeo u utorak. U tom je slučaju Pinokio u utorak dao odgovor "Povijest". Kako Pinokio utorkom uvijek govori istinu, zaključujemo da je "Povijest" njegov najdraži predmet.

#### Zadatak B-2.5.

Točka  $E$  je polovište stranice  $\overline{AB}$  kvadrata  $ABCD$ . Na dijagonali  $\overline{AC}$  odabrana je točka  $F$  tako da je trokut  $EFD$  pravokutan s pravim kutom u  $F$ . U kojem omjeru točka  $F$  dijeli dijagonalu  $\overline{AC}$ ?

#### Rješenje.



$$|DE| = \sqrt{a^2 + \left(\frac{a}{2}\right)^2} = \frac{a}{2}\sqrt{5}.$$



$\overline{DE}$  je promjer kružnice na kojoj leže točke  $A$  i  $F$  (Tales).

Kutovi  $DAF$  i  $DEF$  su obodni nad tetivom  $DF$  i jednaki  $45^\circ$  pa je trokut  $EFD$  jednakokratan.

$$|DF| = \frac{|DE|}{\sqrt{2}} = \frac{a\sqrt{10}}{4}.$$

Iz trokuta  $DGF$  dobivamo

$$(a - x)^2 + x^2 = |DF|^2, \text{ tj. kvadratnu jednadžbu } 16x^2 - 16ax + 3a^2 = 0.$$

$$\text{Rješenja su } x_1 = \frac{3a}{4} \text{ i } x_2 = \frac{a}{4}.$$

$$\text{Dakle, } |GC| = \frac{a}{4}.$$

$$\text{Trokut } FCG \text{ je jednakokratan pravokutan pa je } |FC| = x\sqrt{2} = \frac{a\sqrt{2}}{4} = \frac{|AC|}{4}.$$

$$\text{Dakle, } |AF| = \frac{3|AC|}{4}, \text{ odnosno točka } F \text{ dijeli dijagonalu u omjeru } 3 : 1.$$

# DRŽAVNO NATJECANJE IZ MATEMATIKE

3. razred – srednja škola – B varijanta

Trogir, 9. travnja 2015.

## Zadatak B-3.1.

Uređeni parovi  $(a, b)$  i  $(c, d)$  su rješenja sustava jednadžbi

$$\begin{aligned}\log_{225} x + \log_{64} y &= 4 \\ \log_x 225 - \log_y 64 &= 1.\end{aligned}$$

Izračunajte  $\log_{30}(abcd)$ .

### Rješenje.

Rješenja  $x$  i  $y$  zadatka moraju biti pozitivni realni brojevi različiti od 1. Uočimo da je

$$\log_x 225 = \frac{1}{\log_{225} x} \quad \text{i} \quad \log_y 64 = \frac{1}{\log_{64} y}.$$

Uvedemo li zamjene  $\log_{225} x = m$  i  $\log_{64} y = n$ , sustav prelazi u

$$\begin{aligned}m + n &= 4 \\ \frac{1}{m} - \frac{1}{n} &= 1.\end{aligned}$$

Iz prve jednadžbe izrazimo  $m$  i uvrstimo u drugu jednadžbu. Dobijemo

$$\begin{aligned}\frac{1}{4-n} - \frac{1}{n} &= 1 \\ n - (4-n) &= 4n - n^2 \\ n^2 - 2n - 4 &= 0.\end{aligned}$$

Rješenja posljednje jednadžbe i pripadni  $m_1, m_2$  su:

$$n_1 = 1 - \sqrt{5}, \quad n_2 = 1 + \sqrt{5}, \quad \text{odnosno} \quad m_1 = 3 + \sqrt{5}, \quad m_2 = 3 - \sqrt{5}.$$

Izračunamo sad  $x = 225^m$  i  $y = 64^n$ . Imamo

$$a = x_1 = 225^{3+\sqrt{5}}, \quad b = y_1 = 64^{1-\sqrt{5}}, \quad c = x_2 = 225^{3-\sqrt{5}} \quad \text{i} \quad d = y_2 = 64^{1+\sqrt{5}},$$

pa je konačno rješenje

$$\begin{aligned}\log_{30}(abcd) &= \log_{30}(225^{3+\sqrt{5}} \cdot 64^{1-\sqrt{5}} \cdot 225^{3-\sqrt{5}} \cdot 64^{1+\sqrt{5}}) = \log_{30}(225^6 \cdot 64^2) \\ &= \log_{30}(15^{12} \cdot 2^{12}) = \log_{30} 30^{12} = 12.\end{aligned}$$

### Zadatak B-3.2.

Ako su  $a, b, c$  duljine stranica trokuta,  $\alpha, \beta, \gamma$  njima nasuprotni kutovi i  $R$  polumjer trokutu opisane kružnice, dokažite da vrijedi

$$a^2 + b^2 + c^2 = 8R^2(1 + \cos \alpha \cos \beta \cos \gamma).$$

### Rješenje.

Iz poučka o sinusu slijedi

$$a = 2R \sin \alpha \implies a^2 = 4R^2 \sin^2 \alpha$$

$$b = 2R \sin \beta \implies b^2 = 4R^2 \sin^2 \beta$$

$$c = 2R \sin \gamma \implies c^2 = 4R^2 \sin^2 \gamma.$$

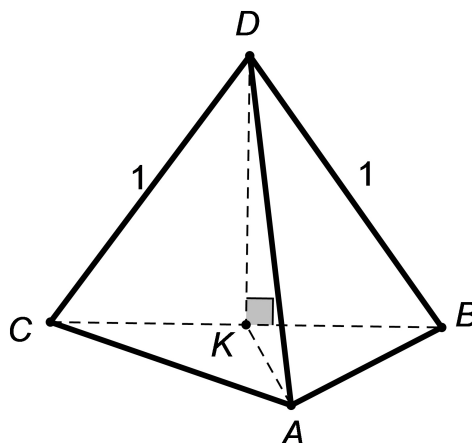
Sada imamo

$$\begin{aligned} a^2 + b^2 + c^2 &= 4R^2(\sin^2 \alpha + \sin^2 \beta + \sin^2 \gamma) \\ &= 2R^2(1 - \cos 2\alpha + 1 - \cos 2\beta + 1 - \cos 2\gamma) \\ &= 2R^2(3 - (\cos 2\alpha + \cos 2\beta + \cos 2\gamma)) \\ &= 2R^2(3 - [\cos 2\alpha + \cos 2\beta + \cos(2\alpha + 2\beta)]) \\ &= 2R^2(3 - [2 \cos(\alpha + \beta) \cos(\alpha - \beta) + 2 \cos^2(\alpha + \beta) - 1]) \\ &= 2R^2(4 - 2 \cos(\alpha + \beta)[\cos(\alpha - \beta) + \cos(\alpha + \beta)]) \\ &= 2R^2(4 - 4 \cos(\alpha + \beta) \cos \alpha \cos \beta) \\ &= 8R^2(1 - \cos(\pi - \gamma) \cos \alpha \cos \beta) \\ &= 8R^2(1 + \cos \alpha \cos \beta \cos \gamma). \end{aligned}$$

### Zadatak B-3.3.

U trostranoj piramidi  $ABCD$  pobočka  $BDC$  okomita je na osnovku  $ABC$ ,  $|BD| = |DC| = 1$ , a svi bočni bridovi pri vrhu  $D$  zatvaraju kut od  $60^\circ$ . Odredite obujam trostrane piramide.

### Rješenje.



Prema uvjetu zadatka je  $\sphericalangle BDC = \sphericalangle CDA = \sphericalangle ADB = 60^\circ$  i  $|BD| = |DC| = 1$ , te je trokut  $BCD$  jednakostraničan, a visina trokuta  $|DK| = \frac{\sqrt{3}}{2}$ .

Pravac  $DK$  leži u ravnini  $BCD$  koja je okomita na ravninu  $ABC$ , pa je okomit na svaki pravac koji leži u ravnini  $ABC$ , tj.  $DK \perp AK$ , odnosno  $\sphericalangle DKA = 90^\circ$ .

Uočimo da je  $\triangle CKA \cong \triangle BKA$  ( $|CK| = |BK|$ ,  $\sphericalangle CKA = \sphericalangle AKB = 90^\circ$ ), pa je  $|AC| = |AB|$ .

Neka je sad  $|KA| = x$ ,  $|DA| = m$  i  $|AB| = n$ . Iz pravokutnog trokuta  $DKA$  slijedi:

$$m^2 = x^2 + \frac{3}{4} \implies x^2 = m^2 - \frac{3}{4}. \quad (1)$$

Iz pravokutnog trokuta  $CKA$  slijedi:

$$n^2 = x^2 + \frac{1}{4} \implies x^2 = n^2 - \frac{1}{4}. \quad (2)$$

U trokutu  $ABD$  primjenimo poučak o kosinusu:

$$n^2 = m^2 + 1 - 2m \cos 60^\circ \implies n^2 = m^2 - m + 1. \quad (3)$$

Sada iz (1) i (2) slijedi

$$n^2 = m^2 - \frac{1}{2}. \quad (4)$$

Iz (3) i (4) slijedi

$$m^2 - \frac{1}{2} = m^2 - m + 1 \implies m = \frac{3}{2},$$

pa uvrštavanjem u (1) dobivamo

$$x^2 = \frac{9}{4} - \frac{3}{4} = \frac{6}{4} \implies x = \frac{\sqrt{6}}{2}.$$

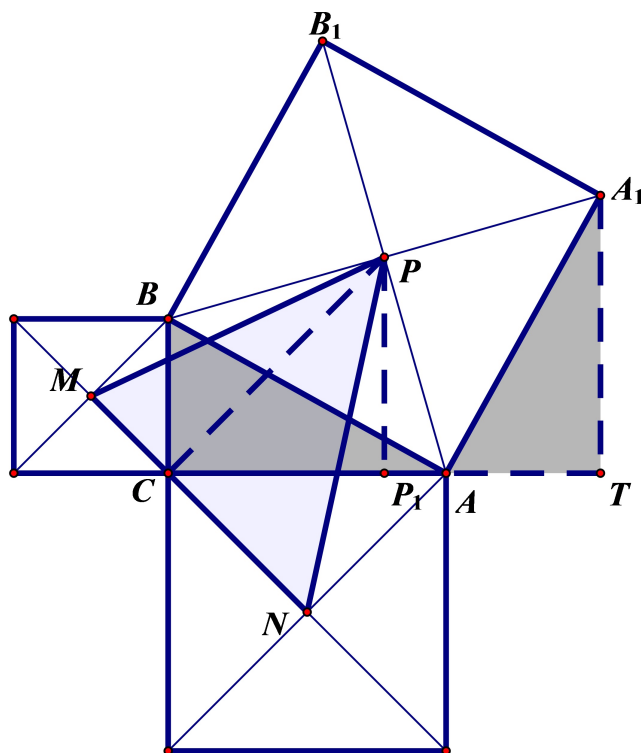
Na kraju je volumen dane trostrane piramide

$$V = \frac{1}{3} B \cdot v = \frac{1}{3} \cdot \frac{1 \cdot \frac{\sqrt{6}}{2}}{2} \cdot \frac{\sqrt{3}}{2} = \frac{3\sqrt{2}}{24} = \frac{\sqrt{2}}{8}.$$

### Zadatak B-3.4.

Nad stranicama pravokutnog trokuta kojemu su  $a$ ,  $b$  duljine kateta, konstruirani su prema van kvadrati. Izračunajte (u ovisnosti o  $a$  i  $b$ ) površinu trokuta kojemu su vrhovi u središtima konstruiranih kvadrata.

Prvo rješenje.



Treba izračunati površinu trokuta  $MNP$ . Duljina stranice  $\overline{MN}$  iznosi

$$|MN| = |MC| + |CN| = \frac{a\sqrt{2} + b\sqrt{2}}{2}.$$

Trokuti  $ATA_1$  i  $BCA$  su sukladni ( $|AB| = |AA_1|$ ,  $\sphericalangle A_1AT = \sphericalangle ABC$ , oba trokuta su pravokutna).

Tada je  $\overline{PP_1}$  srednjica trapeza  $CTA_1B$  i vrijedi  $|PP_1| = \frac{a+b}{2}$ , a s druge strane je i

$$|CP_1| = \frac{1}{2}|CT| = \frac{1}{2}(a+b).$$

Pravokutnom trokutu  $CP_1P$  su dvije stranice jednake, te su njihovi nasuprotni kutevi jednaki  $45^\circ$ . Zaključujemo da je  $\sphericalangle PCN = 90^\circ$  (jer je zbroj dva kuta od  $45^\circ$ ), a  $\overline{PC}$  je visina trokuta  $MNP$ . Tada je površina trokuta  $MNP$  jednaka

$$P = \frac{|MN| \cdot |PC|}{2} = \frac{1}{2} \cdot \frac{a\sqrt{2} + b\sqrt{2}}{2} \cdot \frac{\sqrt{2}(a+b)}{2} = \frac{(a+b)^2}{4}.$$

### Drugo rješenje.

Smjestimo dani trokut i konstruirane kvadrate u koordinatni sustav tako da je ishodište koordinatnog sustava u vrhu  $C$ , vrh  $A$  na osi  $x$ , a vrh  $B$  na osi  $y$ . Kao i u prvom rješenju treba prvo pokazati da je  $\overline{PP_1}$  srednjica trapeza  $CTA_1B$ .

Tada su koordinate vrhova  $M$ ,  $N$  i  $P$  sljedeće

$$M\left(-\frac{a}{2}, \frac{a}{2}\right), \quad N\left(\frac{b}{2}, -\frac{b}{2}\right), \quad P\left(\frac{a+b}{2}, \frac{a+b}{2}\right).$$

Površina trokuta iznosi

$$\begin{aligned} P &= \frac{1}{2} \cdot \left| \frac{b}{2} \left( \frac{a}{2} - \frac{a+b}{2} \right) + \frac{-a}{2} \left( \frac{a+b}{2} + \frac{b}{2} \right) + \frac{a+b}{2} \left( -\frac{a}{2} - \frac{b}{2} \right) \right| \\ &= \frac{1}{8} \cdot |2(a^2 + b^2 + 2ab)| = \frac{(a+b)^2}{4}. \end{aligned}$$

### Zadatak B-3.5.

Odredite sve proste brojeve  $p$ ,  $q$  i prirodan broj  $r$  tako da vrijedi

$$p^2 + q^2 + pq = r^2.$$

### Rješenje.

Očito je  $r > p$  i  $r > q$ . Dana jednakost ekvivalenta je s

$$\begin{aligned} (p+q)^2 - pq &= r^2, \quad \text{odnosno} \\ (p+q-r)(p+q+r) &= pq. \end{aligned}$$

Kako su  $p$  i  $q$  prosti i  $p+q-r < p+q+r$  vrijedi:

$$\begin{aligned} p+q-r &= p \\ p+q+r &= q \end{aligned}$$

ili

$$\begin{aligned} p+q-r &= q \\ p+q+r &= p \end{aligned}$$

ili

$$\begin{aligned} p+q-r &= 1 \\ p+q+r &= pq. \end{aligned}$$

Prva dva slučaja nisu moguća jer je  $r > p$  i  $r > q$ , pa razmatramo samo treći slučaj.

Zbrojimo li jednadžbe dobivamo

$$\begin{aligned} 2p+2q-1 &= pq \\ 2p+2q-pq-4+3 &= 0 \\ (p-2)(q-2) &= 3. \end{aligned}$$

Sada je  $p=5, q=3$  ili  $p=3, q=5$ , a u oba slučaja je  $r=7$ .

Dakle, sva rješenja jednadžbe su

$$(p, q, r) = (5, 3, 7) \quad \text{ili} \quad (3, 5, 7).$$

# DRŽAVNO NATJECANJE IZ MATEMATIKE

## 4. razred – srednja škola – B varijanta

Trogir, 9. travnja 2015.

### Zadatak B-4.1.

Odredite područje definicije funkcije  $f(x) = \sqrt{x - 2\sqrt{x-1}}$  i odredite broj rješenja jednadžbe  $f(x) = a$ , u ovisnosti o realnom broju  $a$ .

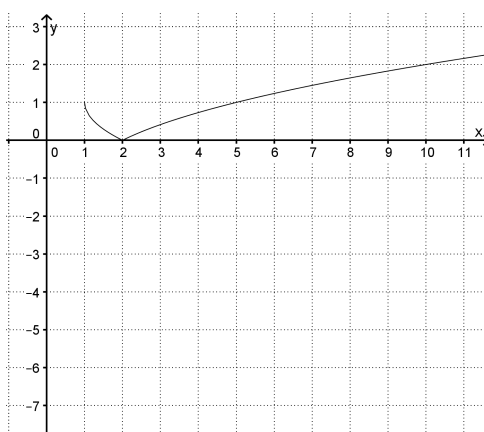
### Rješenje.

Zapišimo funkciju  $f$  u sljedećem obliku

$$\begin{aligned} f(x) &= \sqrt{x - 2\sqrt{x-1}} = \sqrt{(\sqrt{x-1} - 1)^2} \\ &= |\sqrt{x-1} - 1|. \end{aligned}$$

Funkcija  $f$  je definirana za sve realne brojeve  $x$  za koje je  $x - 1 \geq 0 \Leftrightarrow x \geq 1$ , pa je njezino područje definicije skup  $D_f = [1, \infty)$ .

Broj rješenja jednadžbe  $f(x) = a$  odredit ćemo grafički. Nacrtajmo graf funkcije  $f$ .



Broj rješenja tražene jednadžbe jednak je broju sjecišta pravca  $y = a$  i grafa funkcije  $f$ .

Ako je  $a < 0$  jednadžba  $f(x) = a$  nema rješenja;

Ako je  $a = 0$  jednadžba  $f(x) = a$  ima jedno rješenje,  $x = 2$ ;

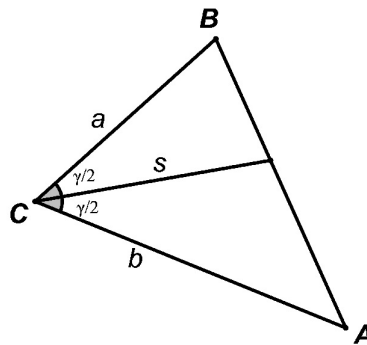
Ako je  $0 < a \leq 1$  jednadžba  $f(x) = a$  ima dva rješenja;

Ako je  $a > 1$  jednadžba  $f(x) = a$  ima jedno rješenje.

### Zadatak B-4.2.

Izračunajte površinu trokuta kojemu duljine dviju stranica iznose 13 cm i 14 cm, a duljina simetrale kuta između tih dviju stranica iznosi  $\frac{28\sqrt{13}}{9}$  cm.

Prvo rješenje.



Neka su  $a$ ,  $b$  stranice danog trokuta i  $s$  simetrala kuta između njih. Tada je površina trokuta jednaka

$$P = \frac{1}{2}ab \cdot \sin \gamma \text{ ili } P = \frac{1}{2}as \cdot \sin \frac{\gamma}{2} + \frac{1}{2}bs \cdot \sin \frac{\gamma}{2} = \frac{1}{2}s \cdot (a + b) \cdot \sin \frac{\gamma}{2}.$$

Slijedi:

$$\begin{aligned} \frac{1}{2}ab \cdot \sin \gamma &= \frac{1}{2}s \cdot (a + b) \cdot \sin \frac{\gamma}{2} \\ \left(2 \cdot \sin \frac{\gamma}{2} \cdot \cos \frac{\gamma}{2}\right) \cdot 13 \cdot 14 &= \frac{28\sqrt{13}}{9} \cdot 27 \cdot \sin \frac{\gamma}{2}. \end{aligned}$$

Tada je

$$\begin{aligned} \cos \frac{\gamma}{2} &= \frac{3\sqrt{13}}{13}, \quad \sin \frac{\gamma}{2} = \sqrt{1 - \cos^2 \frac{\gamma}{2}} = \frac{2\sqrt{13}}{13} \\ P &= \frac{1}{2} \cdot 13 \cdot 14 \cdot 2 \cdot \frac{3\sqrt{13}}{13} \cdot \frac{2\sqrt{13}}{13} = 84 \text{ cm}^2. \end{aligned}$$

Drugo rješenje.

Označimo  $x = |BD|$ , a  $y = |DA|$ . Tada je  $x : y = a : b = 13 : 14$ . Možemo pisati  $x = 13k$ ,  $y = 14k$ .

Primjenimo poučak o kosinusu na trokute  $ACD$  i  $BCD$ .

$$\begin{aligned} x^2 &= a^2 + s^2 - 2 \cdot a \cdot s \cdot \cos \frac{\gamma}{2}, \\ y^2 &= b^2 + s^2 - 2 \cdot b \cdot s \cdot \cos \frac{\gamma}{2}. \end{aligned}$$

Slijedi:

$$\begin{aligned} \cos \frac{\gamma}{2} &= \frac{a^2 + s^2 - x^2}{2as}, \text{ odnosno} \\ \frac{a^2 + s^2 - x^2}{2as} &= \frac{b^2 + s^2 - y^2}{2bs} \text{ ili} \\ \frac{13^2 + \frac{28^2 \cdot 13}{81} - 13^2 k^2}{13} &= \frac{14^2 + \frac{28^2 \cdot 13}{81} - 14^2 k^2}{14} \\ k^2 &= \frac{25}{81}, \quad k = \frac{5}{9}. \end{aligned}$$



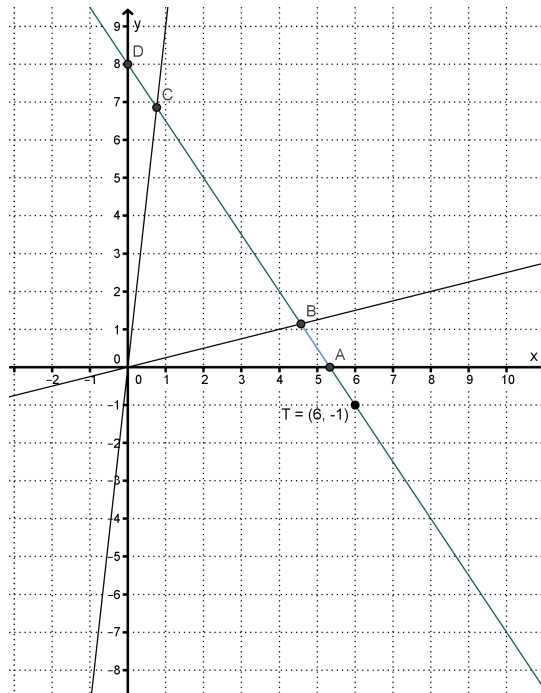
Tada je  $c = 27k = 15$  cm. Površinu možemo izračunati Heronovom formulom:

$$s = \frac{13 + 14 + 15}{2} = 21, P = \sqrt{21 \cdot (21 - 13) \cdot (21 - 14) \cdot (21 - 15)} = 84 \text{ cm}^2.$$

### Zadatak B-4.3.

Zadani su pravci  $p_1 \dots y = \frac{1}{4}x$ ,  $p_2 \dots y = 9x$  i točka  $T(6, -1)$ . Odredite jednadžbu pravca koji prolazi točkom  $T$ , a os apscisa, pravce  $p_1$ ,  $p_2$  i os ordinata siječe redom u točkama  $A$ ,  $B$ ,  $C$ ,  $D$  tako da vrijedi  $|AB| = |CD|$ .

Rješenje.



Pravac koji prolazi točkom  $T$  ima jednadžbu:

$$\begin{aligned} y + 1 &= k(x - 6) \\ y &= kx - (6k + 1) \end{aligned}$$

Da bi uopće presjekao  $x$ -os,  $p_1$ ,  $p_2$  i  $y$ -os ne smije biti paralelan sa zadanim pravcima i koordinatnim osima, niti prolaziti kroz ishodište, tj. mora vrijediti:

$$k \neq \frac{1}{4}, k \neq 9, k \neq 0, k \neq -\frac{1}{6}.$$

Koordinate točaka  $A$ ,  $B$ ,  $C$ ,  $D$  određujemo rješavanjem sustava jednadžbi pripadnih pravaca:

$$\begin{aligned} A &\left(\frac{6k+1}{k}, 0\right) \\ B &\left(\frac{4(6k+1)}{4k-1}, \frac{6k+1}{4k-1}\right) \\ C &\left(\frac{6k+1}{k-9}, \frac{9(6k+1)}{k-9}\right) \\ D &(0, -6k-1) \end{aligned}$$

Kako je  $|AB| = |CD|$  slijedi

$$\begin{aligned} \left(\frac{4(6k+1)}{4k-1} - \frac{6k+1}{k}\right)^2 + \left(\frac{6k+1}{4k-1}\right)^2 &= \left(\frac{6k+1}{k-9}\right)^2 + \left(\frac{9(6k+1)}{k-9} + (6k+1)\right)^2 \quad / : (6k+1)^2 \\ \left(\frac{4}{4k-1} - \frac{1}{k}\right)^2 + \left(\frac{1}{4k-1}\right)^2 &= \left(\frac{1}{k-9}\right)^2 + \left(\frac{9}{k-9} + 1\right)^2 \\ \frac{1}{(4k-1)^2 k^2} + \frac{1}{(4k-1)^2} &= \frac{1}{(k-9)^2} + \frac{k^2}{(k-9)^2} \\ \frac{1+k^2}{(4k-1)^2 k^2} &= \frac{1+k^2}{(k-9)^2} \\ (4k-1)^2 k^2 &= (k-9)^2 \\ |(4k-1)k| &= |k-9| \end{aligned}$$

Imamo sljedeće mogućnosti:

1.

$$4k^2 - k = k - 9 \Rightarrow 4k^2 - 2k + 9 = 0 \Rightarrow \text{nema realnih rješenja.}$$

2.

$$4k^2 - k = 9 - k \Rightarrow 4k^2 = 9 \Rightarrow k_{1,2} = \pm \frac{3}{2}.$$

Postoje dva pravca s traženim svojstvom:

$$p' \dots y = \frac{3}{2}x - 10, \quad p'' \dots y = -\frac{3}{2}x + 8.$$

#### Zadatak B-4.4.

Zadane su sljedeće funkcije:

$$f(x) = 10^{10x}, \quad g(x) = \log\left(\frac{x}{10}\right), \quad h_1(x) = g(f(x)), \quad h_n(x) = h_1(h_{n-1}(x)),$$

za sve  $n \geq 2$ . Odredite zbroj znamenaka broja  $h_{2015}(1)$ .

#### Rješenje.

Odredimo prvo  $h_1(x) = g(f(x)) = 10x - 1$ . Tada je

$$h_2(x) = h_1(h_1(x)) = 10(10x - 1) - 1 = 10^2x - 10 - 1, \quad h_2(1) = 10^2 - 10 - 1 = 89.$$

$$h_3(x) = h_1(h_2(x)) = 10(10^2x - 10 - 1) - 1 = 10^3x - 10^2 - 10 - 1, \quad h_3(1) = 10^3 - 10^2 - 10 - 1 = 889.$$

Očito će  $n$ -ti član biti  $h_n(1) = 10^n - (10^{n-1} + \dots + 10 + 1)$ . Izraz u zagradi je zbroj  $n$  članova geometrijskog niza kojemu je prvi član 1, a kvocijent 10. Slijedi

$$h_n(1) = 10^n - \frac{10^n - 1}{9} = 10^n - \frac{999\dots9}{9} = 10^n - \underbrace{111\dots11}_n \text{ jedinica}.$$

Tada je traženi broj

$$h_{2015}(1) = 10^{2015} - \underbrace{111\dots11}_{2015 \text{ jedinica}} = \underbrace{888\dots88}_{2014 \text{ osmica}} 9.$$

Zbroj znamenaka ovog broja je  $2014 \cdot 8 + 9 = 16121$ .

### Zadatak B-4.5.

Na nekom košarkaškom turniru ekipe "Vukovi" i "Medvjedi" su prvu četvrtinu odigrali neriješeno. Bodovi koje su Vukovi osvojili u svakoj od 4 četvrtine čine rastući geometrijski niz, a bodovi koje su Medvjedi osvojili po četvrtinama čine rastući aritmetički niz. Na kraju su Vukovi pobijedili s jednim bodom razlike. Niti jedna ekipa nije osvojila više od 100 bodova. Odredite ukupan broj bodova koje su obje ekipe zajedno osvojile na kraju prvog poluvremena.

### Rješenje.

Neka je  $a$  broj bodova koji su obje ekipe osvojile u prvoj četvrtini. Tada je niz brojeva, odnosno bodova koje su Vukovi osvojili u svakoj četvrtini posebno jednak redom  $a, aq, aq^2, aq^3$ , gdje je  $q$  kvocijent geometrijskog niza i  $q > 1$  jer je niz rastući.

Niz bodova koji su Medvjedi osvojili u svakoj četvrtini posebno je sljedeći rastući aritmetički niz:  $a, a + d, a + 2d, a + 3d, d > 0$ .

Zbroj geometrijskog niza je ukupan broj bodova koje su na kraju osvojili Vukovi, a zbroj aritmetičkog niza je ukupan broj bodova koje su na kraju osvojili Medvjedi. Tada vrijedi

$$\begin{aligned}a + aq + aq^2 + aq^3 &\leq 100, \\a + a + d + a + 2d + a + 3d &\leq 100,\end{aligned}$$

odnosno

$$\begin{aligned}a(1 + q + q^2 + q^3) &\leq 100, \\4a + 6d &\leq 100, \\a(1 + q + q^2 + q^3) &= 4a + 6d + 1 \quad (*).\end{aligned}$$

Iz posljednje jednakosti, promatrajući parnost lijeve i desne strane, zaključujemo da je  $a$  neparan broj, a  $q$  paran broj. Iz prve nejednakosti zaključujemo da je  $q \leq 4$ .

Imamo sljedeće mogućnosti:  $q = 4$  ili  $q = 2$ .

Ako je  $q = 4$  vrijedi  $85a \leq 100$ , odnosno  $a = 1$ . Iz (\*) za  $q = 4$  i  $a = 1$  dobivamo  $d \notin \mathbb{N}$ .

Ako je  $q = 2$  vrijedi  $15a \leq 100$ , odnosno  $a \leq 6, a \in \{1, 3, 5\}$ . Sada pomoću (\*) provjeravamo koji od brojeva  $a \in \{1, 3, 5\}$  daju cjelobrojno rješenje za  $d$ .

$$\begin{aligned}15a &= 4a + 6d + 1, \\6d &= 11a - 1.\end{aligned}$$

Posljednja jednakost ima cjelobrojno rješenje jedino za  $a = 5, d = 9$ .

Za te vrijednosti proizlazi da su Vukovi imali sljedeće bodove: 5, 10, 20, 40, a Medvjedi 5, 14, 23, 32.

Treba izračunati koliki je ukupan zbroj bodova koji su na poluvremenu ostvarile obje ekipe zajedno, tj.  $a + aq + a + a + d = 3a + aq + d$ .

Ukupan zbroj bodova iznosi  $5 + 10 + 5 + 14 = 34$ .